


## ЧИСЛА ОТ 1 ДО 100


1

Пронумеруй журналы в правильной последовательности, если каждый месяц выходил один выпуск журнала.




2

Запиши номера страниц.



3

Дети начали смотреть мультфильм в 9 часов утра. Он закончился через 2 часа. Нарисуй на циферблате стрелки так, чтобы часы показывали время, когда дети закончили просмотр мультфильма.



# СЧЁТ ДЕСЯТКАМИ

1 Где чей колпак?



1 дес. 1 ед.



1 дес.



7 дес. 1 ед.




7 дес.



7 ед.



7 дес. 7 ед.



1 дес. 7 ед.

2

$10 \square 0$

$99 \square 100$

$10 - 10 \square 10$

$1 \square 10$

$40 \square 50$

$30 + 10 \square 30$

$100 \square 1$


$70 \square 80$


$60 - 40 \square 20$



3

Составь задачу. Реши её.

Было — 10 

Съели — 7 

Осталось — ?

Решение


--	--	--	--	--	--	--	--	--	--	--	--	--	--	--	--	--	--	--	--

Ответ: 

--	--	--	--	--	--	--	--	--	--	--	--	--	--	--	--	--	--	--	--

4

Посчитай свечи на рисунке. На-  
черти фигуру с таким же коли-  
чеством сторон.




1

Закрась выражения с одинаковыми значениями карандашом одного цвета.

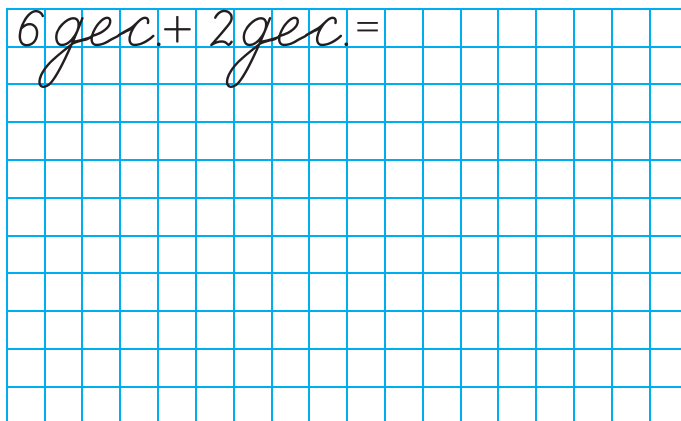


2

Числа больше 5 десятков увеличь на 2 десятка. Числа меньше 7 десятков уменьши на 3 десятка.

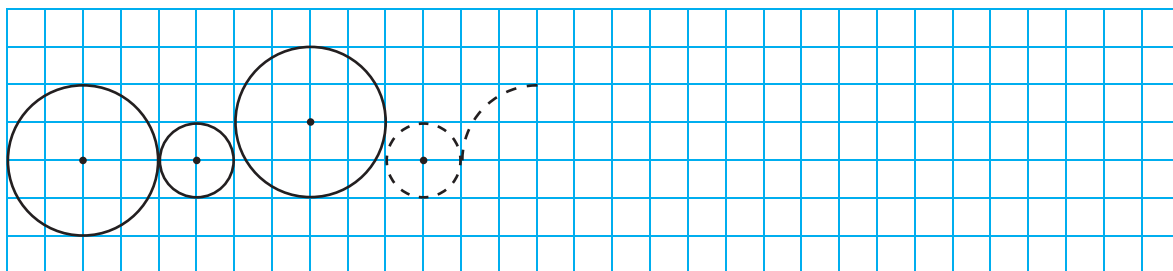


$$6 \text{ дес.} + 2 \text{ дес.} =$$



3


Дорисуй узор, продолжив последовательность. Закрась каждую вторую фигуру карандашом одного цвета.



# МИЛЛИМЕТР

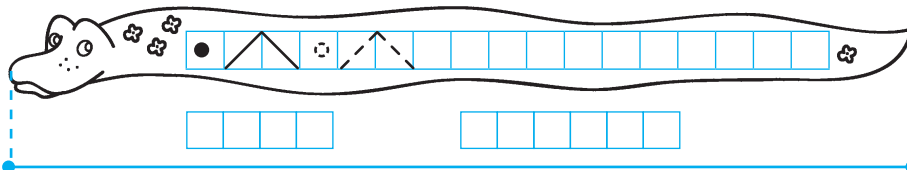
1

«Помоги» слонику начертить отрезок и луч, имеющие общую точку.




2

Измерь длину удава. Запиши результат в см, а затем — в дм и см. Продолжи узор.



3








Начерти отрезок на 5 миллиметров короче удава.



4

Заполни таблицу.



Количество элементов							
сторон	<input type="checkbox"/>	<input type="checkbox"/>	<input type="checkbox"/>	<input type="checkbox"/>	<input type="checkbox"/>	<input type="checkbox"/>	<input type="checkbox"/>
углов	<input type="checkbox"/>	<input type="checkbox"/>	<input type="checkbox"/>	<input type="checkbox"/>	<input type="checkbox"/>	<input type="checkbox"/>	<input type="checkbox"/>
вершин	<input type="checkbox"/>	<input type="checkbox"/>	<input type="checkbox"/>	<input type="checkbox"/>	<input type="checkbox"/>	<input type="checkbox"/>	<input type="checkbox"/>

5

Через 2 синие точки проведи прямую линию, через 2 чёрные точки — кривую, через синие и чёрные точки — ломаную.



# МЕТР

1

15 см  5 см

100 см  10 дм

20 см  2 дм

2 дм  1 м

1 м  100 см

50 см  4 дм

1 м  10 мм

1 мм  1 см

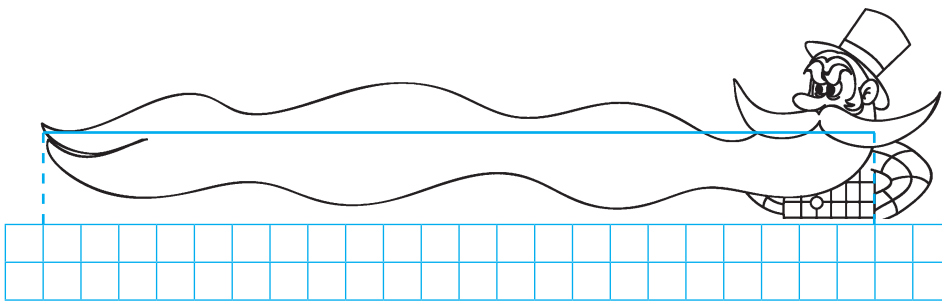
1 м  10 дм

1 м  100 мм



2

Начерти отрезок на 1 см 5 мм короче, чем борода сказочного героя.



см  мм

3

Составь задачу по рисунку. Объясни по схемам, что узнаем, вычислив каждое выражение.



Решение

1)  -  =

2)  +  =

Ответ: