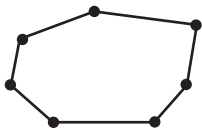


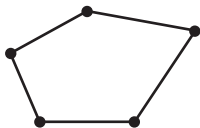
Фамилия, имя:

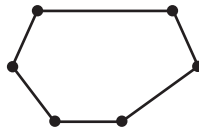
ОЦЕНКА:




1 Укажи количество углов у многоугольников.





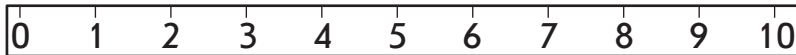


2 Определи длину каждой ленты.













3 Дорисуй в каждом поезде указанное точками количество вагонов.



4 Соедини фигуры с числом, соответствующим их количеству.



4



6



5

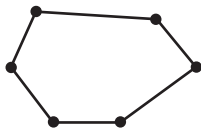


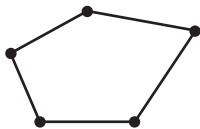
Фамилия, имя:

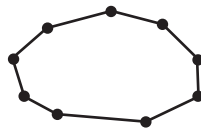
ОЦЕНКА:



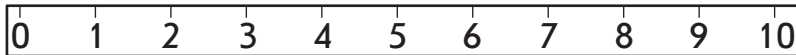
1 Укажи количество углов у многоугольников.







2 Определи длину каждой ленты.

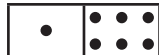

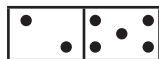





—

—

—

3 Дорисуй в каждом поезде указанное точками количество вагонов.



4 Соедини фигуры с числом, соответствующим их количеству.



5



7



6



Фамилия, имя:

ОЦЕНКА:



1 Используя рисунки и схемы, выполни записи.

было



стало

