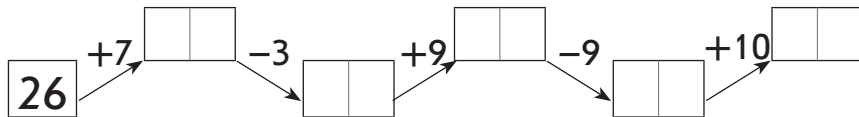
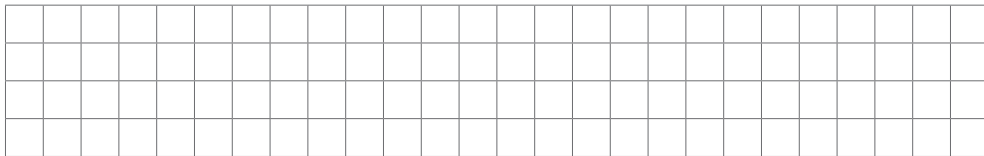


Фамилия, имя: ОЦЕНКА: 

Вариант 1

5

**1** Вычисли цепочку.**2** Начерти два отрезка. Длина первого отрезка 1 дм 1 см, второй отрезок на 4 см короче.

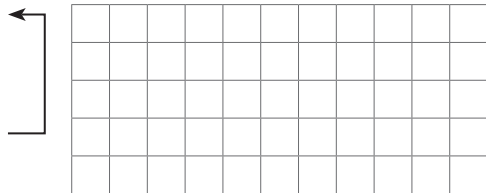
3 Составь и реши задачу с помощью схемы.



— 9 рублей



— ? на 5 рублей  
дороже

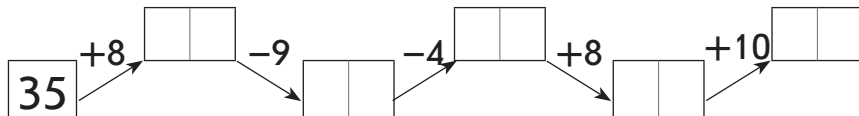


4 Сравни ( $>$ ,  $<$ ,  $=$ ).




Фамилия, имя: ОЦЕНКА: 

1 Вычисли цепочку.



2 Начерти два отрезка. Длина первого отрезка 1 дм 2 см, второй отрезок на 5 см короче.



3 Составь и реши задачу с помощью схемы.



— 8 рублей



— ? на 7 рублей  
дороже


4 Сравни ( $>$ ,  $<$ ,  $=$ ).



Фамилия, имя: ОЦЕНКА: 

Вариант 1

9

1 Реши примеры.

$34 + 7 = \square\square$

$13 + 24 = \square\square$




$58 - 9 = \square\square$

$68 - 32 = \square\square$

$84 - 6 = \square\square$

$36 + 23 = \square\square$

2 Запиши, который час показывают стрелки часов.


 ч   мин

 ч   мин

  ч   мин